

平成31年度 中学校入学試験問題

社会 (第二回)

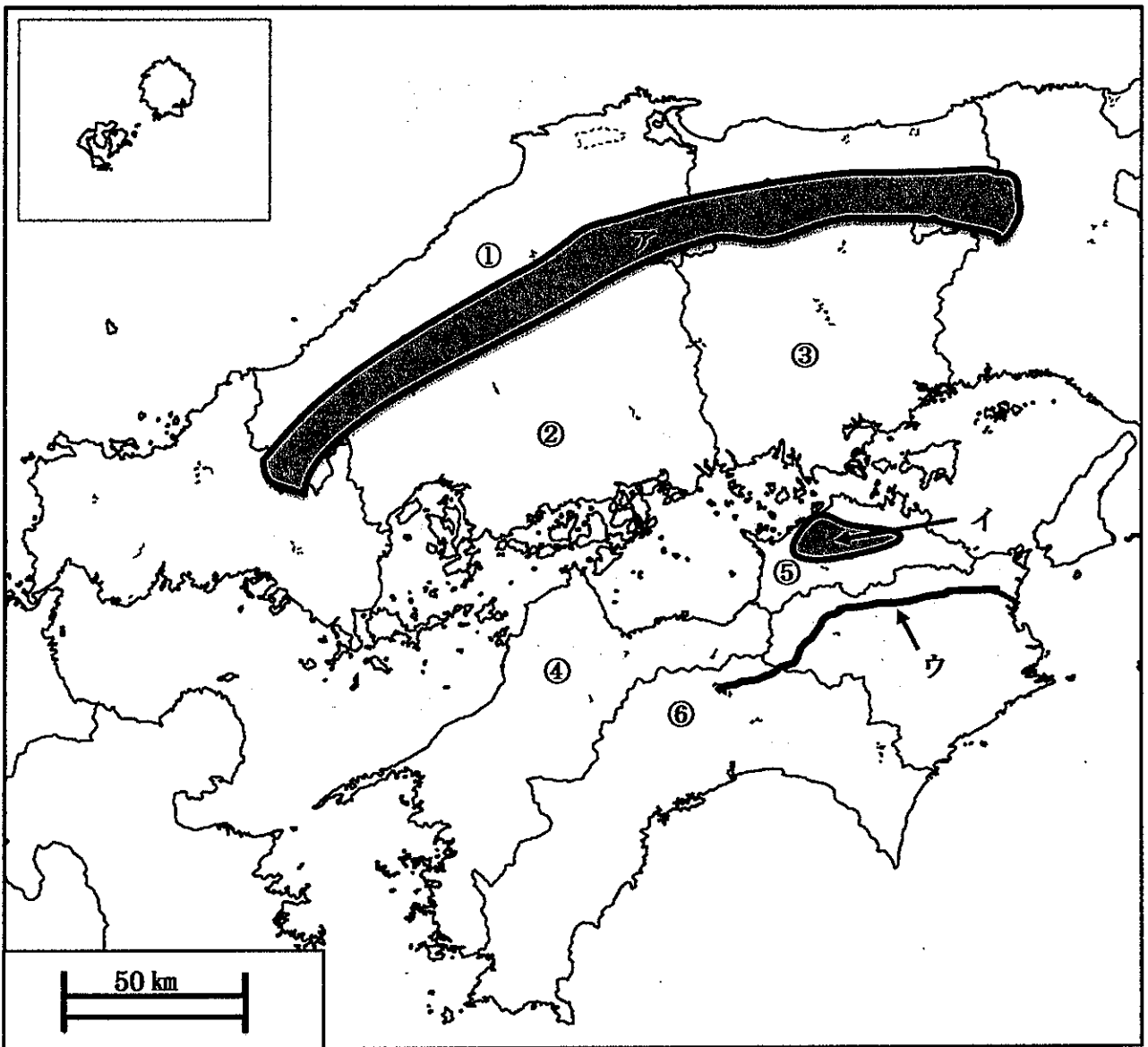
【受験上の注意】

- 1、受験番号、氏名は必ず記入してください。
- 2、解答はすべて解答用紙の所定のところに記入してください。
- 3、用紙は使いやすいように折ってもかまいませんが、破らないようにしてください。
- 4、解答用紙、問題用紙とも持ち帰らないでください。
- 5、教室を出る時は、解答用紙を裏にして、その上に問題用紙を置いてください。

受験番号		氏名	
------	--	----	--

《解答は、特別の指示がない限り漢字で記入すること》

1. 下の地図は、日本のある地域を示したものである。地図を見て問いに答えなさい。



問1. 地図上の①～⑥にあてはまる県名を答えなさい。

問2. 地図上の①～⑥の県名のうち、県庁所在地が県名に一致していないところが3カ所ある。その番号を答えなさい。また、それぞれの県庁所在地を答えなさい。

問3. 地図上の①の県にある宍道湖では貝の漁が盛んに行われている。この貝の名前を答えなさい。解答は漢字でなくてもよい。

問4. 地図上の②の県では貝の養殖が盛んに行われている。この貝の名前を答えなさい。解答は漢字でなくてもよい。

問5. 次の表は、地図上の③の県を代表する果物の収穫量を示したものである。果物の名前を答えなさい。解答は漢字でなくてもよい。

順位	県名	収穫量 (単位 t)
1位	山梨県	39900
2位	福島県	29300
3位	長野県	16100
4位	和歌山県	9870
5位	山形県	9180
6位	③	5460

(出典 農林水産省 果樹生産出荷統計 2016年度)

問6. 地図上のアは、この地方をまたいでいる地形を示している。この名前を答えなさい。

問7. 次の表は、地図上の④の県を代表する果物の収穫量を示したものである。果物の名前を答えなさい。解答は漢字でなくてもよい。

順位	県名	収穫量 (単位 t)
1位	和歌山県	161000
2位	④	127800
3位	静岡県	121300
4位	熊本県	84000
5位	長崎県	50200

(出典 農林水産省 果樹生産出荷統計 2016年度)

問8. 地図上のイについて、これは⑤の県にある瀬戸内海沿いに広がる四国最大の平野である。この名前を答えなさい。

問9. 地図上の⑥の県では、平野部でビニールハウスを利用して野菜を早く作って出荷する農業が行われている。この農業を何と言いますか。

問10. 地図上の⑥の県では、日本海流に回遊してくる魚を釣りざお一本で釣り上げる独特な漁が行われている。この魚の名前を答えなさい。解答は漢字でなくてもよい。

問 11. 地図上のウについて、これは⑥の県から流れている「四国三郎」と呼ばれる四国最大規模の川である。この川の名前を答えなさい。

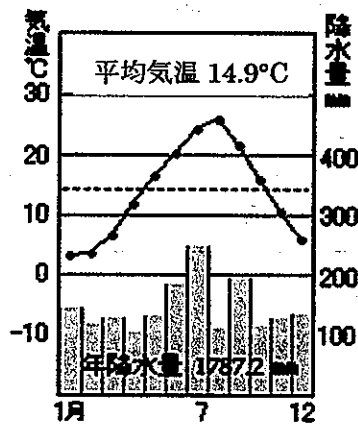
問 12. 次にあげる文 A～C は地図上の①、⑤、⑥の各県の気候を表したものである。

- A. 山地で季節風をさえぎられ、温暖で降水量が少ない。
- B. 黒潮の影響があつて1年を通じて温暖で降水量が多い。
- C. 冬は北西に季節風の影響があつて雪が多く降る。

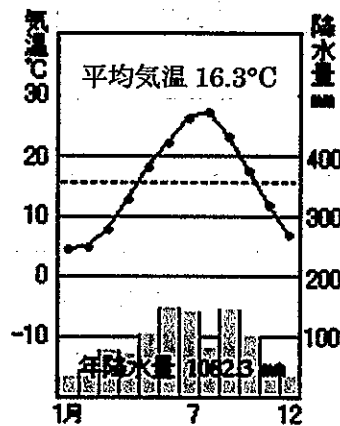
(1) それぞれにあてはまるものを、A～Cの記号で答えなさい。

(2) 地図上の⑤の県の雨温図を下より1つ選び、(あ)～(う)の記号で答えなさい。

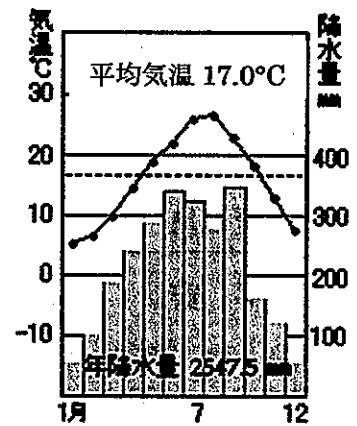
(あ)



(い)



(う)



2. 昨年、日本と中国の友好条約が結ばれ40年が経過しました。次の日中関係の年表<A>～<C>を見て、問いに答えなさい。

<A>

時代	西暦	出来事
弥生		<ul style="list-style-type: none"> 大陸から水稲耕作・青銅器・鉄器伝来 『漢書』地理志 ※紀元前1世紀ころの日本(倭)は(ア)100余国の小国に分立 『あ』倭人伝 ※3世紀ころの日本(倭)には、30余国を連合した邪馬台国があり、日本は内紛状態であったが女王(イ)により治められた
古墳		<ul style="list-style-type: none"> 日本(倭)の五人の王が中国に使者を派遣
飛鳥	607	<ul style="list-style-type: none"> (エ)らを遣隋使として派遣 『い』倭国伝 ※(イ)「日出づる処の天子、書を日没する処の天子に致す。・・・」
	630	<ul style="list-style-type: none"> 犬上御田歙を遣唐使として派遣
奈良	753	<ul style="list-style-type: none"> 唐から(ウ)が来日し、唐招提寺を建立した
平安	894	<ul style="list-style-type: none"> (カ)の意見により遣唐使を廃止
	1167	<ul style="list-style-type: none"> (キ)が太政大臣に就任 平氏政権を実現し日宋貿易を進める

問1. 年表中(1)～(5)にあてはまる人物を答えなさい。

問2. 年表中『 あ 』と『 い 』にあてはまる中国の歴史書を答えなさい。

問3. 下線 (ア) について、日本 (倭) の小国がどのように誕生たんじょうしましたか、次の語句を用いて説明しなさい。また、用いた語句には下線を付けなさい。

水稻耕作 人口の増加 指導者 村

問4. 下線 (イ) について、これは史料の一部であるが、この内容から日本は中国とどのような外交を望んでいたと考えられますか、漢字2字で答えなさい。

《B》

時代	西暦	出来事
鎌倉	1271	・モンゴル帝国の (6) が中国の大都 <small>せんと</small> に遷都し元を建国
	1274	・日本 <small>したが</small> に従うことを要求するが執権 <small>しつけん</small> (7) が拒絶 <small>きよげつ</small>
	1281	・文永の役 ・弘安の役
室町	1352	・ <u>(ウ) 倭寇</u> が中国や朝鮮半島沿岸を荒らす
	1404	・3代将軍 (8) が日明貿易を開始

問5. 年表中 (6) ~ (8) にあてはまる人物を答えなさい。

問6. 下線 (ウ) について、これは日本の海賊かいぞく集団であるといわれています。読み方をひらがなで答えなさい。

《C》

時代	西暦	出来事
明治	1871	・日清修好条規 <small>にっしんしゅうこうじょうき</small> を結ぶ
	1894	・ <u>(エ) 日清戦争</u> が起こる
	1895	・ <u>(オ) 下関条約</u> を結ぶが日本は三国干渉 <small>かんしやう</small> を受ける
大正	1915	・日本は中国へ二十一カ条の要求を提出
昭和	1931	・柳条湖 <small>りゅうじょうこ</small> で日本軍が南満州鉄道を爆破 ※ <u>(カ) この事件を機に満州事変</u> が起こる
	1937	・盧溝橋 <small>ろこうきやう</small> で日本と中国軍が衝突 <small>しょうとつ</small> ※ <u>(キ) この事件を機に日中戦争</u> に突入 <small>とつにゆう</small>
	1941	・太平洋戦争に突入
	1945	・日本は「ポツダム宣言」を受け入れる
	1949	・中華人民共和 <small>ちゅうかじんみんきやうわこく</small> 国成立
	1972	・田中角栄首相 <small>しやうおんらい</small> と周恩来首相が日中共同声明を発表 ※ <u>(ク) 日中国交正常化</u> を実現
	1978	・【 ① 】を結ぶ ※日本と中国の恒久的な平和友好関係を発展させる内容の条約

問7. 下線 (エ) について、この戦争は日本と中国がどこの国をめぐる対立していたことが原因となりましたか、その国を答えなさい。

問8. 下線 (オ) について、この条約で日本は中国の領土の一部である半島を得ました。しかし、三国干渉で返還することになります。この半島をカタカナで答えなさい。

問9. 下線(カ)について、満州事変が始まると、日本はどのように満州を支配しましたか。また、日本の国際社会における立場がどのように変化しましたか。次の語句を用いて説明しなさい。また、用いた語句には下線を付けなさい。

満州	満州国	皇帝	国際連盟
----	-----	----	------

問10. 下線(キ)について、この戦争で日本はある場所を占領し武器を捨てた兵士や女性、子どもを含む多くの中国人を殺害する事件を起こしたといわれています。ある場所とはどこですか、漢字2字で答えなさい。

問11. 下線(ク)について、国交正常化を記念して中国より日本の上野動物園に2頭の動物が贈られました。この動物を答えなさい。

問12. 年表中【 ① 】にあてはまる条約を答えなさい。

3. 次の会話文を読んで、問いに答えなさい。

お母さん：「今日は平成最後の大みそかね。」

お父さん：「今年は、『平成最後の〇〇』なんていうフレーズをよく聞いたなあ。」

花子：「①来年は元号も変わるし、私も中学生になるし、節目の年になりそうだな。楽しみだね。」

お母さん：「花子も中学生になるのね。」

お父さん：「大人に近づいてるな。②(1)も改正されて、成人年齢も20歳から18歳になるんだぞ。」

お母さん：「そうそう，だから 18 歳になると，ローンも自分で契約できるし，
（ 2 ）カードも自分で作れるのよ。」

花 子：「へえ。そんなこともできちゃうんだ。でも，なんで 18 歳になった
のかしら。」

お父さん：「きっかけは，（ 3 ）の投票年齢が 18 歳に定められたことだ。そ
れで，選挙権年齢も 18 歳になった。18 歳は世界の多くの国が選挙
権を与えている年齢なんだ。」

お母さん：「これからの日本は少子高齢化がますます進むでしょ。だから，若い
人たちに積極的に社会に参加してもらおうというねらいもあるの
よ。」

花 子：「そっかあ。今のうちから私も世の中に関心もっておかなきゃね。」

お父さん：「夏には，③参議院議員選挙もあるぞ。」

お母さん：「秋には，消費税の税率も変わるのよね。消費税が始まったのが平成
元年だから，④消費税って平成と同じ年月を歩んできたのね。」

花 子：「税金のことは気になるな。18 歳になったら選挙に行くわ。」

お母さん：「そうね。まだ少し先だけど，その時は家族でいっしょにいきましょ
う。」

問 1. 下線①について，次の問いに答えなさい。

（1）新しい元号はいつから使われますか，次から 1 つ選び，番号で答えなさい。

1. 1月1日	2. 4月1日	3. 5月1日	4. 10月1日
---------	---------	---------	----------

(2) 次の憲法の条文の (ア)・(イ) に入る語句を答えなさい。

天皇は、日本国や日本国民の統合の (ア) であって、この地位は、
(イ) を持つすべての日本国民の考えにもとづく。

(一部をやさしく書き直しています。)

問2. 文章中の (1) にあてはまる法律を次から1つ選び、番号で答えなさい。

1. 憲法 2. 公職選挙法 3. 刑法 4. 民法

問3. 下線②について、この法律の施行年^{しこう}を次から1つ選び、番号で答えなさい。

1. 2020年 2. 2022年 3. 2025年 4. 2030年

問4. 文章中の (2) には、後払いで買い物の支払いができるカード名が入ります。カタカナで答えなさい。

問5. 文章中の (3) には、憲法の改正の賛否を問う手続きが入ります。漢字4字で答えなさい。

問6. 下線③に関して、次の文のうち正しいものには○を、あやまっているものには×を答えなさい。

- (1) 参議院議員の任期は3年である。
- (2) 次の参議院議員選挙での改選定数は124名になる。
- (3) 参議院には内閣不信任決議権はない。
- (4) 法律の審議は、参議院から先に行なってもよい。

問7. 下線④についての文を読んで、次の問いに答えなさい。

高齢社会の財源を確保するために、消費税は（ア）年に（イ）%でスタートしました。これまで通りの（ウ）税を中心とする税制では、現役で働いている世代に負担が集中してしまうため、幅広い世代で負担する消費税が導入されました。その後、税率は1997年に（エ）%になり、2014年に現在の税率になり、2019年10月には（オ）%になる予定です。

- (1) 文章中の（ア）・（イ）・（エ）・（オ）に入る数字の組み合わせが正しいものを次から1つ選び、番号で答えなさい。

番号	ア	イ	エ	オ
1	1985	2	5	10
2	1989	3	8	15
3	1989	3	5	10
4	1990	2	8	10
5	1990	3	5	15

(2) 文章中の (ウ) には, 個人の収入に課せられる税金が入ります。あてはまるものを答えなさい。

問8. 次のうち, 平成時代にあてはまらないものをすべて選び, 番号で答えなさい。

1. 男女雇用機会均等法の施行
2. 裁判員制度の導入
3. サンフランシスコ平和条約の調印
4. アメリカで同時多発テロが起きる
5. 東海道新幹線の開通

《以下余白》

